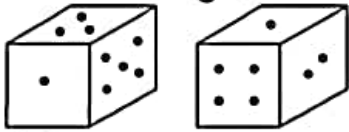


Dice Top 25 Questions From All Latest SSC CGL, CHSL, MTS, CPO Exams 2020

1. Two different positions of the same dice are given below. How many dots will be on the face opposite to the face having 1 dot?

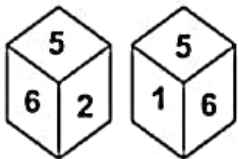
एक ही पासे की दो अलग-अलग स्थितियाँ नीचे दी गई हैं। 1 बिंदु वाले फलक के विपरीत फलक पर कितने बिंदु होंगे?



- a) 6
b) 2
c) 5
d) 4

2. Two different positions of the same dice are shown, the six faces of which are numbered from 1 to 6. Which number is on the face opposite to the showing '2'?

एक ही पासे के दो अलग-अलग स्थान दिखाए गए हैं, जिनमें से छह फलक 1 से 6 तक गिने गए हैं। कौन सी संख्या '2' दर्शाने वाले फलक के विपरीत फलक पर है?

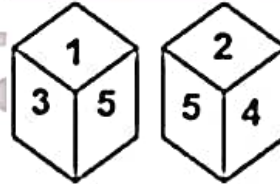


- a) 3
b) 6
c) 5
d) 1

3. Two different positions of the same dice are shown, the six faces of which are numbered from 1 to 6. Select the number that will be on the face opposite to the one having '5'.

एक ही पासे के दो अलग-अलग स्थान दिखाए गए हैं, जिनमें से छह फलक 1 से 6 तक गिने

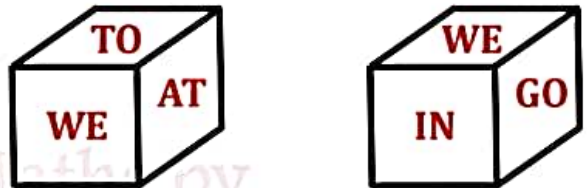
गए हैं। उस संख्या का चयन करें जो '5' वाले के विपरीत फलक पर होगी।



- a) 6
b) 1
c) 3
d) 4

4. Two different positions of the same dice are shown, the six faces of which are marked as 'AT', 'IN', 'SO', 'WE', 'GO' and 'TO'. Select the word that will be on the face opposite to the face showing the word 'TO'.

एक ही पासे के दो अलग-अलग स्थान दिखाए गए हैं, जिनमें से छह फलक 'AT', 'IN', 'SO', 'WE', 'GO' और 'TO' के रूप में चिह्नित हैं। उस शब्द का चयन करें जो 'TO' शब्द दिखाने वाले चेहरे के विपरीत चेहरे पर होगा।

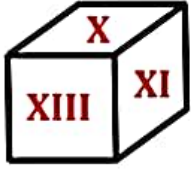


- a) AT
b) SO
c) GO
d) IN

5. Two different positions of the same dice are shown, the faces of which are marked with the numbers IX, X, XI, XII, XIII and XIV. Select the number that will be on the face opposite to the face having the number 'XIV'.

एक ही पासे के दो अलग-अलग स्थान दिखाए गए हैं, जिनके फलक IX, X, XI, XII, XIII और XIV संख्याओं से अंकित हैं। उस संख्या का चयन करें

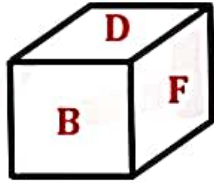
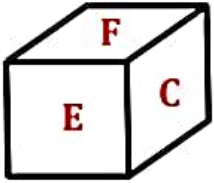
जो 'XIV' संख्या वाले फलक के विपरीत फलक पर होगी।



- a) XII
c) X
- b) XI
d) IX

6. The different positions of the same dice are shown, the six faces of which are marked from A to F. Select the letter that will be on the face opposite to the face showing the letter C.

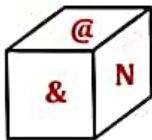
एक ही पासे की विभिन्न स्थितियों को दिखाया गया है, जिनमें से छह फलक A से F तक चिह्नित हैं। उस अक्षर का चयन करें जो अक्षर C को दर्शाने वाले फलक के विपरीत के फलक पर होगा।



- a) F
c) A
- b) B
d) D

7. Three different positions of the same dice are shown, select the symbol that will be on the face opposite to the face having 'N'.

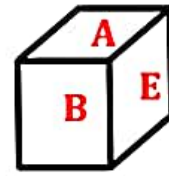
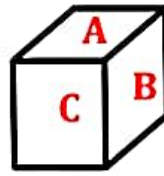
एक ही पासे के तीन अलग-अलग स्थान दिखाए गए हैं, उस प्रतीक का चयन करें जो 'N' वाले फलक के विपरीत फलक पर होगा।



- a) @
c) &
- b) #
d) %

8. Three different positions of the same dice are shown, the faces of which are marked with the letters A, B, C, D, E and F select the letter that will be on the face opposite to the face having the letter 'D'

एक ही पासे के तीन अलग-अलग स्थान दिखाए गए हैं, जिनके फलक A, B, C, D, E और F अक्षरों से चिह्नित हैं, उस अक्षर का चयन करें जो 'D' अक्षर वाले चेहरे के विपरीत चेहरे पर होगा।



- a) B
c) F
- b) C
d) A

9. Three different positions of the some dice are shown, the faces of which are marked with the letters L, M, N, O, P and Q. Select the letter that will be on the face opposite to the face having the letter 'M'.

कुछ पासों के तीन अलग-अलग स्थान दिखाए गए हैं, जिनके फलक L, M, N, O, P और Q अक्षरों से चिह्नित हैं। उस अक्षर का चयन करें जो 'M' अक्षर वाले फलक के विपरीत फलक पर होगा।



- a) P
c) L
- b) Q
d) N

10. Three different position of the same dice are shown. Select the letter number that will be on the face opposite to the face having the letter 'U'.

एक ही पासे की तीन अलग-अलग स्थिति दर्शाई गई हैं। उस अक्षर संख्या का चयन करें जो 'U' अक्षर वाले फलक के विपरीत फलक पर होगा।



- a) I b) A
c) E d) 9

एक ही पासे की तीन अलग-अलग स्थितियों को दिखाया गया है। उस संख्या का चयन करें जो 6 वाले फलक के विपरीत फलक पर होगा।



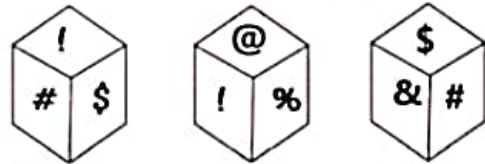
- a) 2 b) 4
c) 3 d) 1

11. Three different positions of the same dice are shown. Select the number that will be on the face opposite to the face having the number 4.
एक ही पासे की तीन अलग-अलग स्थितियों को दिखाया गया है। उस संख्या का चयन करें जो संख्या 4 वाले फलक के विपरीत फलक पर होगी।



- a) 6 b) 1
c) 3 d) 2

14. Three different positions of the same dice are shown. Which symbol is on the face opposite on the face having the symbol '!'?
एक ही पासे की तीन अलग-अलग स्थितियों को दिखाया गया है। '!' चिन्ह वाले चेहरे के विपरीत चेहरे पर कौन सा चिन्ह है?



- a) & b) %
c) # d) \$

12. Three different positions of the same dice are shown. Select the letter that will be on the face opposite to the face having the letter E.
एक ही पासे की तीन अलग-अलग स्थितियों को दिखाया गया है। उस अक्षर का चयन करें जो E अक्षर वाले चेहरे के विपरीत चेहरे पर होगा।



- a) A b) D
c) F d) C

13. Three different positions of the same dice are shown. Select the number that will be on the face opposite to the face having 6.

15. Three different positions of the same dice are shown. Select the number that will be on the face opposite to the face showing '1'.
एक ही पासे की तीन अलग-अलग स्थितियों को दिखाया गया है। उस संख्या का चयन करें जो '1' दर्शाने वाले फलक के विपरीत फलक पर होगी।



- a) 4 b) 5
c) 6 d) 3

16. Three different positions of the same dice are shown. Select the number that will be on the face opposite to the face having the number 1.
एक ही पासे की तीन अलग-अलग स्थितियों को दिखाया गया है। उस संख्या का चयन करें जो संख्या 1 वाले फलक के विपरीत फलक पर होगी।



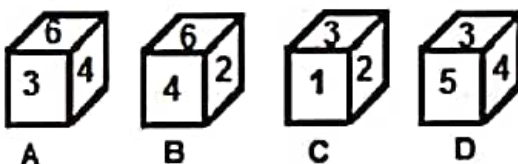
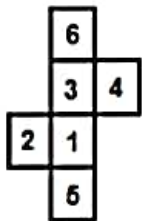
- a) 2
b) 3
c) 4
d) 6

17. Three different positions of the same dice are shown. Select the letter that will be on the face opposite to the face having the letter F.
वहाँ एक ही पासे की अलग-अलग स्थितियाँ दिखाई जाती हैं। उस अक्षर का चयन करें जो F अक्षर वाले चेहरे के विपरीत चेहरे पर होगा।



- a) C
b) D
c) E
d) B

18. Select the boxes that can be formed by folding the given sheet along the lines.
उन बक्सों का चयन करें जो दी गई शीट को रेखाओं के अनुदिश मोड़कर बनाए जा सकते हैं।

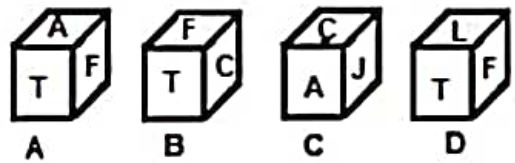
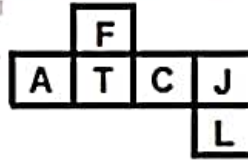


- a) Only A, C and D
b) Only C and D

- c) Only B and C
d) Only A and C

19. Select the cubes that can be formed by folding the given sheet along the lines.

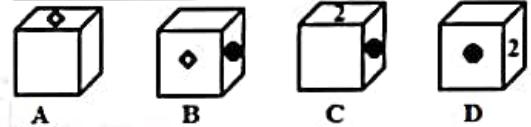
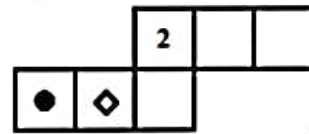
उन घनों का चयन कीजिए जो दी गई शीट को रेखाओं के अनुदिश मोड़कर बनाए जा सकते हैं।



- a) Only A and B
b) Only A, B and C
c) Only A, B and D
d) Only B and C

20. Select the cube (s) that can be formed by folding the given sheet along the lines.

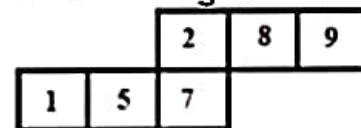
उस घन (घनों) का चयन कीजिए जो दी गई शीट को रेखाओं के अनुदिश मोड़कर बनाया जा सकता है।



- a) Only A
b) All A, B, C and D
c) Only A, B and C
d) Only B and D

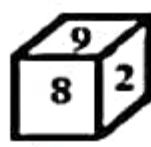
21. Select the cubes that can be formed by folding the given sheet along the lines.

उन घनों का चयन कीजिए जो दी गई शीट को रेखाओं के अनुदिश मोड़कर बनाए जा सकते हैं।





A



B



C



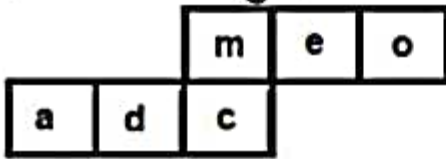
D

- a) Only B, C and D
c) Only A, C and D

- b) Only B and C
d) Only A and D

22. Select the cubes that can be formed by folding the given sheet along the lines.

उन घनों का चयन कीजिए जो दी गई शीट को रेखाओं के अनुदिश मोड़कर बनाए जा सकते हैं।



A



B



C



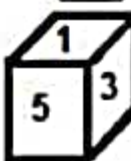
D

- a) Only A and D
c) Only A, C and D

- b) Only B, C and D
d) Only B and C

23. Select the cube(s) that can be formed by folding the given sheet along the lines.

दी गई शीट को रेखाओं के अनुदिश मोड़कर बनने वाले घन (घनों) का चयन कीजिए।



A



B



C




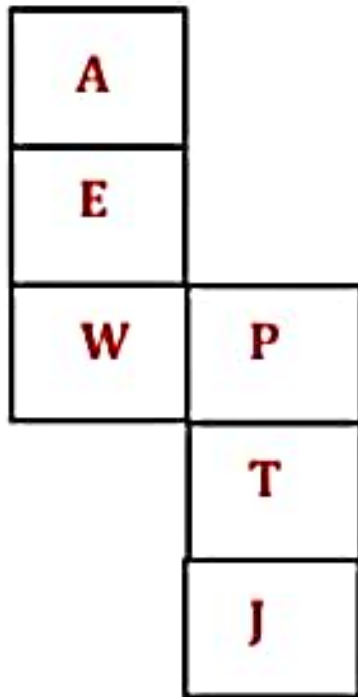
D

- a) Only C and D
c) Only A and C


- b) Only B and C
d) Only A, C and D

24. Select the cube(s) that can be formed by folding the given sheet along the lines.


उस घन (घनों) का चयन कीजिए जो दी गई शीट को रेखाओं के अनुदिश मोड़कर बनाया जा सकता है।




A



B



C



D

- a) Only A and C
- b) Only C and D
- c) No figure can be formed
- d) Only A and D

ANSWER KEY

1. A	2. D	3. A	4. C	5. B
6. B	7. B	8. A	9. A	10. C
11. B	12. C	13. A	14. A	15. B
16. C	17. C	18. D	19. A	20. B
21. D	22. A	23. A	24. C	